


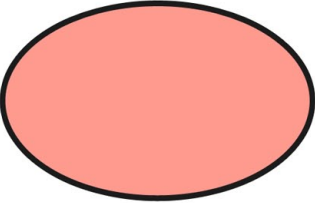

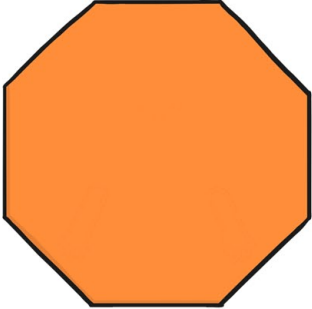

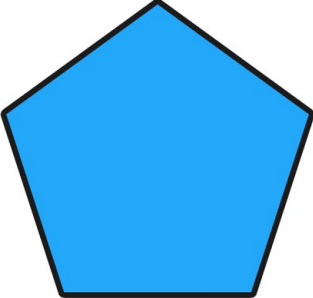



LAS FORMAS Y LOS LADOS

Nombra las formas y cuenta los lados que tienen.

		
Nombre: _____ Número de lados: _____	Nombre: _____ Número de lados: _____	Nombre: _____ Número de lados: _____
		
Nombre: _____ Número de lados: _____	Nombre: _____ Número de lados: _____	Nombre: _____ Número de lados: _____
		
Nombre: _____ Número de lados: _____	Nombre: _____ Número de lados: _____	Nombre: _____ Número de lados: _____